

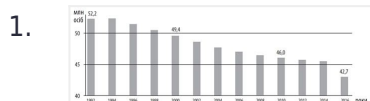
«На Урок»

Населення України

ПІБ: _____

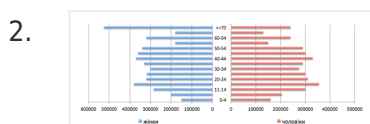
Клас: _____

Дата: _____



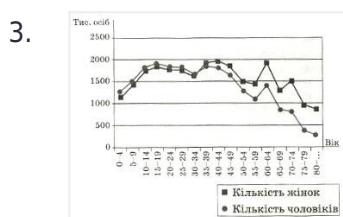
Проаналізуйте діаграму зміни чисельності населення України в 1991-2016 рр. Яке поняття характеризує такий процес?

- а) «демографічна криза» б) «демографічний вибух»
- в) сальдо міграцій г) субурбанізація



Проаналізувавши статево-вікову піраміду, визначте правильне твердження про міське населення однієї з областей України:

- а) жіноче населення за кількістю поступається чоловічому в усіх вікових групах б) найбільша різниця кількості жінок і чоловіків у віці понад 70 років
- в) половина населення області — дитячого та підліткового віку г) серед дітей віком до чотирьох років значно більше дівчаток



Чим обумовлено відображене на рисунку співвідношення чоловіків і жінок у вікових групах населення України?

- а) більша частина емігрантів — жінки працездатного віку б) дівчаток народжується більше, ніж хлопчиків
- в) серед зайнятих у виробництві переважають чоловіки г) тривалість життя жінок більша, ніж чоловіків

4.

Область	Кількість прибулих, осіб	Кількість вибулих, осіб
Житомирська	12813	12754
Львівська	7529	7582
Полтавська	91031	20049
Харківська	17915	17118

Проаналізуйте наведену в таблиці статистичну інформацію щодо потоків міграції в окремих областях України. Визначте область з міграційним скороченням населення:

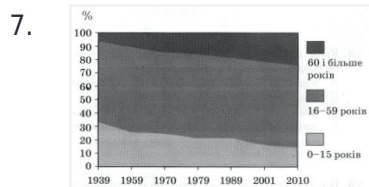
- а) Житомирська б) Львівська
- в) Рівненська г) Харківська

5. Рівень урбанізації в країні визначається:

- а) за кількістю мешканців міст у розрахунку на одиницю площі країни б) за часткою міських жителів у загальній кількості населення
- в) як величина внутрішніх міграцій із сіл до міст і селищ міського типу г) як співвідношення кількості міських і сільських населених пунктів

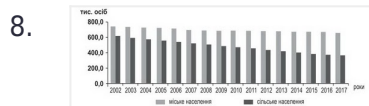
6. Який вислів містить інформацію про міграції населення в Україні?

- а) кількість внутрішньо переміщених осіб упродовж року збільшилася на неокупованих територіях Донбасу та в Харківській області б) найбільшу моноцентричну агломерацію сформовано навколо столиці
- в) переважання смертності над народжуваністю є основною причиною зменшення густоти населення в більшості областей г) частка дітей у віковій структурі населення в західних областях більша, ніж у східних та центральних



Проаналізуйте зміни в структурі населення України (див. діаграму). Який процес відображено на діаграмі?

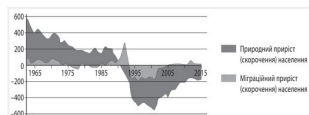
- а) відтворення населення б) депопуляції населення
- в) старіння населення г) урбанізації



Проаналізуйте відображену на діаграмі динаміку чисельності міського й сільського населення Чернігівської області та зробіть висновок:

- а) загальна кількість населення зросла, а частка міських жителів зменшилася б) кількість міських жителів збільшилася, а сільських - зменшилася
- в) темпи зменшення чисельності сільського населення більші, ніж міського г) частка міського населення зменшилася, а сільського - не змінилася

9.



Проаналізуйте графічну модель демографічних процесів в Україні протягом 1965-2015 рр. Визначте особливість динаміки руху населення протягом останніх 15 років порівняно з попереднім періодом:

- а) з'являються перші ознаки демографічної кризи
- б) почався перехід до першого типу відтворення населення
- в) сповільнюється темп скорочення населення
- г) утримується на одному рівні сальдо міграцій

10. Що зумовило уповільнення темпів скорочення населення в Україні впродовж 2007–2016 років? (ТРИ правильні відповіді)

- а) додатне сальдо зовнішніх міграцій
- б) збільшення щільності населення
- в) збільшення частки населення старших вікових груп
- г) зростання показників народжуваності
- д) зростання рівня урбанізованості
- е) зростання частки жіночого населення
- є) реалізація заходів демографічної політики уряду

Ключ до тесту

1. а (1 балів)

2. б (1 балів)

3. г (1 балів)

4. в (1 балів)

5. б (1 балів)

6. а (1 балів)

7. в (1 балів)

8. в (1 балів)

9. в (1 балів)

10. а г є (3 балів)